



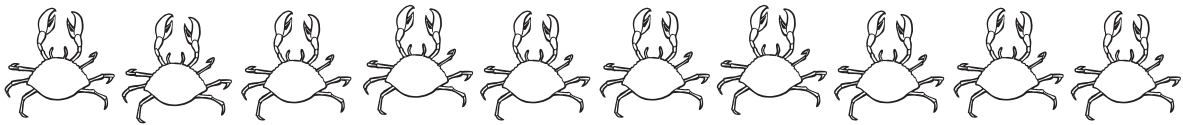





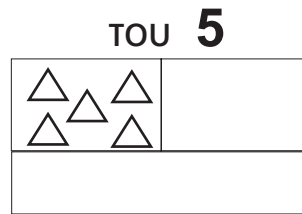
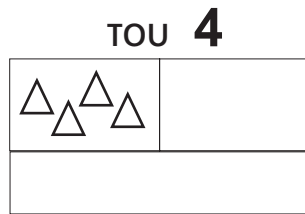
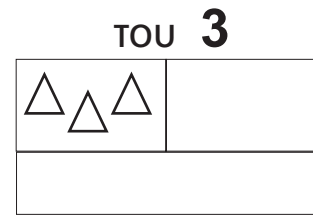
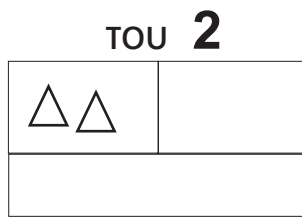
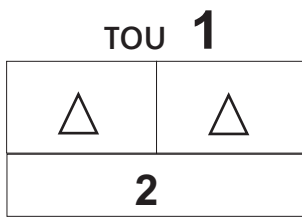


Μάθημα 19

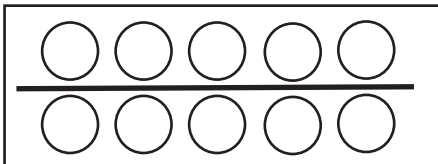
1) Χρωμάτισε σε κάθε σειρά μόνο το ζώακι που σου λέει ο αριθμός που βρίσκεται στο μπροστινό κουτάκι:

20	
50	
10	
90	
60	
80	
40	
100	
70	
30	

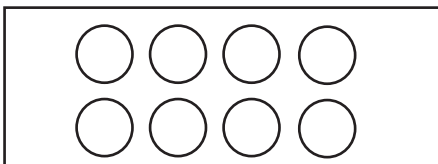
2) Υπολόγισε το **διπλάσιο** των αριθμών, όπως το παράδειγμα:



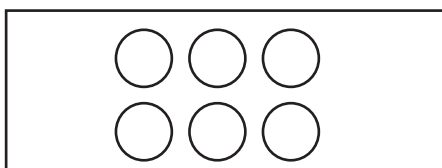
3) Μοίρασε με μια γραμμή τα μπαλάκια κάθε ομάδας στη μέση και απάντησε όπως το παράδειγμα:



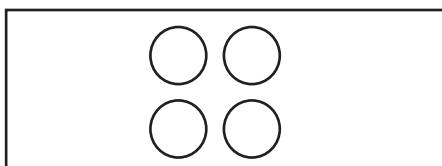
Το μισό του **10**
είναι το **5**



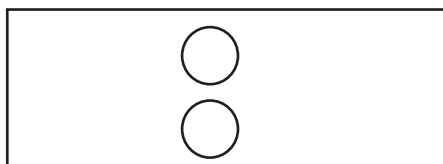
Το μισό του
είναι το



Το μισό του
είναι το



Το μισό του
είναι το



Το μισό του
είναι το

Όνομα: _____