


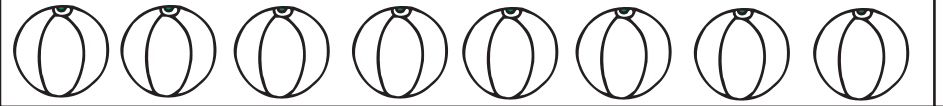



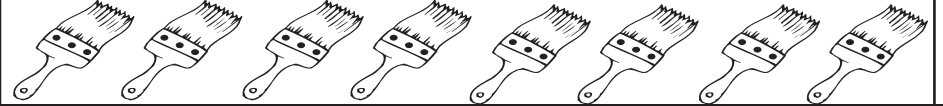

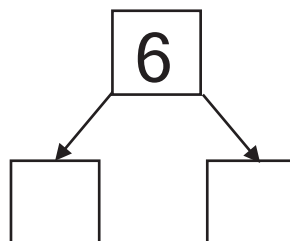
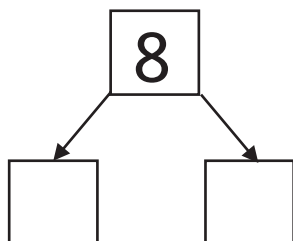
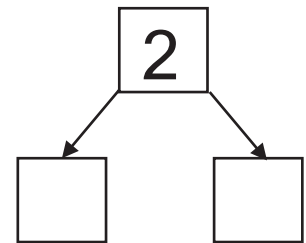
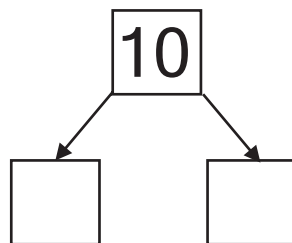
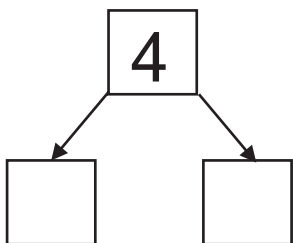


Μάθημα 21

1) Μοίρασε τα 8 πράγματα κάθε ομάδας με διαφορετικούς τρόπους και συμπλήρωσε τα ταμπελάκια όπως εγώ.

	$4 + 4 = 8$
	
	
	
	
	
	
	
	

2) Μοίρασε κάθε αριθμό σε δύο ίσα κομμάτια και γράψε τα στα άδεια κουτάκια.



3) Συμπλήρωσε τι λείπει από τα ζευγαράκια του 10 και γράψε δίπλα στο καθένα το ανάποδό του.

$$10 + \dots = 10 \quad \longrightarrow \quad \dots\dots\dots$$

$$9 + \dots = 10 \quad \longrightarrow \quad \dots\dots\dots$$

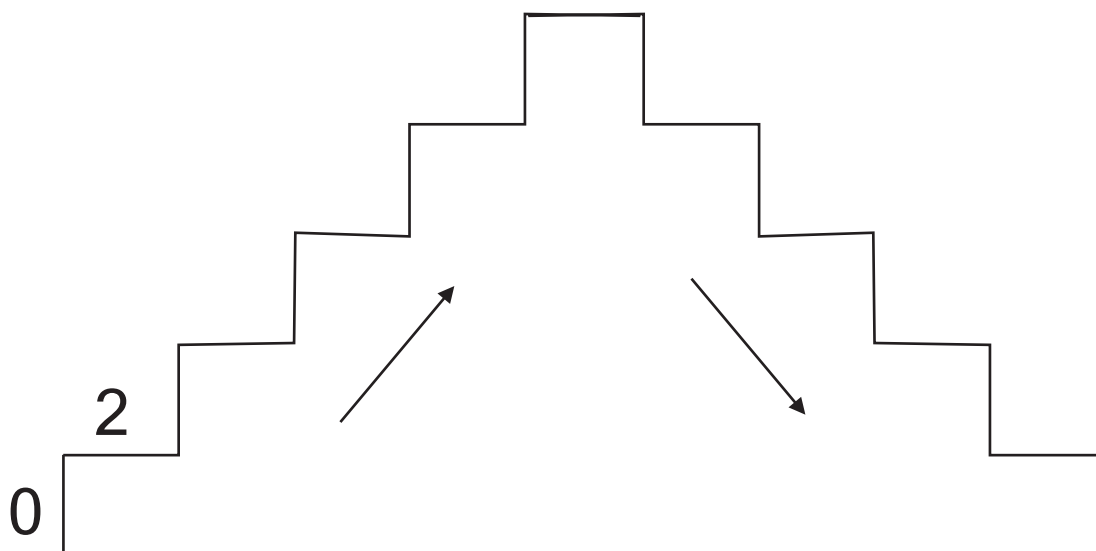
$$8 + \dots = 10 \quad \longrightarrow \quad \dots\dots\dots$$

$$7 + \dots = 10 \quad \longrightarrow \quad \dots\dots\dots$$

$$6 + \dots = 10 \quad \longrightarrow \quad \dots\dots\dots$$

$$5 + \dots = 10$$

4) Ανέβα μέχρι το 10 πηδώντας 2-2 και μετά κατέβα.



Όνομα: _____