








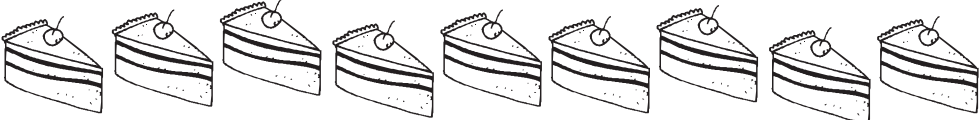



Μάθημα 21

1) Βάψτε τα φαγώσιμα σε κάθε ομάδα χρησιμοποιώντας 2 διαφορετικά χρώματα για να φτιάξετε ζευγαράκια του 9. Μετά συμπλήρωσε τα ταμπελάκια όπως εγώ.

	$6 + 3 = 9$
	
	
	
	
	
	
	
	
	

2) Συμπλήρωσε στις μεγάλες ακτίνες του ήλιου τα ζευγαράκια του 7.



3) Λογάριασε και συμπλήρωσε τον αριθμό που λείπει:

$$7 + \dots = 10$$

$$4 + \dots = 9$$

$$6 + \dots = 8$$

$$1 + \dots = 6$$

$$5 + \dots = 10$$

$$4 + \dots = 8$$

$$3 + \dots = 9$$

$$2 + \dots = 7$$

$$4 + \dots = 6$$

$$3 + \dots = 7$$

$$6 + \dots = 9$$

$$8 + \dots = 10$$

$$7 + \dots = 9$$

$$3 + \dots = 6$$

Όνομα: _____