



# Μάθημα 21


1) Πόσα λείπουν για να γίνουν όλα 6 σε κάθε σακί;  
Ζωγράφισέ τα και συμπλήρωσε τα ταμπελάκια.




$$+ = 6$$



$$+ = 6$$



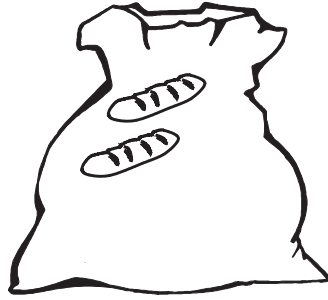
$$+ = 6$$



$$+ = 6$$



$$+ = 6$$



$$+ = 6$$



$$+ = 6$$

2) Λογάριασε.....

α) Τα δίδυμα ζευγαράκια μέχρι το 10

$$5 + 5 =$$

$$2 + 2 =$$

$$4 + 4 =$$

$$3 + 3 =$$

$$1 + 1 =$$

β) Τα ζευγαράκια που αρχίζουν με το 5

$$5 + 0 =$$

$$5 + 1 =$$

$$5 + 2 =$$

$$5 + 3 =$$

$$5 + 4 =$$

$$5 + 5 =$$

3) Να χρωματίσεις μόνο όποια ταμπέλα έχει ζευγαράκι που κάνει 10.

$$5 + 2$$



$$2 + 4$$



$$1 + 0$$



$$8 + 2$$



$$3 + 4$$



$$3 + 6$$



$$3 + 7$$



$$1 + 9$$



$$4 + 6$$



$$5 + 5$$



$$10 + 0$$



$$5 + 3$$



Όνομα: \_\_\_\_\_