

Μάθημα 23

1) Γράψε τους αριθμούς που λείπουν.

0			3			6			9
		12			15			18	

2) Γράψε τον αριθμό που είναι πριν και μετά από αυτόν που είναι στο κουτάκι.

..... <input type="text" value="15"/> <input type="text" value="19"/> <input type="text" value="16"/>
..... <input type="text" value="12"/> <input type="text" value="11"/> <input type="text" value="18"/>
..... <input type="text" value="14"/> <input type="text" value="17"/> <input type="text" value="13"/>

3) Λογάριασε με τη σειρά και μάθε απ' έξω πόσο κάνουν:

$10 + 1 =$

$10 + 7 =$

$10 + 2 =$

$10 + 5 =$

$10 + 8 =$

$10 + 3 =$

$10 + 6 =$

$10 + 9 =$

$10 + 4 =$

$10 + 10 =$

4) Προσπάθησε τώρα να λογαριάσεις και σκορπιστά:

$10 + 4 =$

$10 + 7 =$

$10 + 3 =$

$10 + 5 =$

$10 + 8 =$

$10 + 10 =$

$10 + 9 =$

$10 + 6 =$

$10 + 2 =$


5) Παρατήρησε και βρες πόσα είναι τα κουτάκια:

ΜΗΝ ΞΕΧΝΑΣ! Δεν χρειάζεται να τα μετράς όλα!

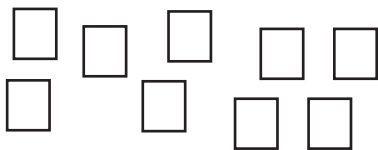

$$\square\square\square\square\square\square\square\square\square\square = 10 \text{ κουτάκια}$$




Είναι



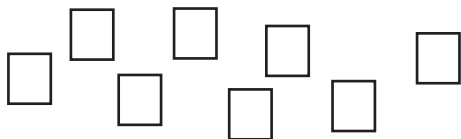
Είναι



Είναι



Είναι



Είναι



Είναι



Είναι

Όνομα: _____