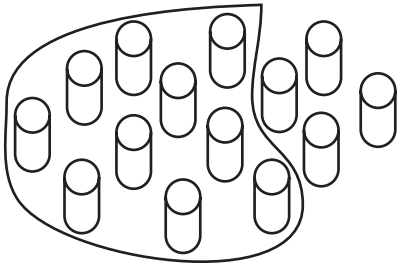


Μάθημα 23

ΝΑ ΘΥΜΑΣΑΙ!


- Κάθε **πράγμα** που είναι **μόνο του**, είναι μια **ΜΟΝΑΔΑ (Μ)**
- **Δέκα πράγματα** που είναι **μαζί**, **κάνουν** μια **ΔΕΚΑΔΑ (Δ)**

1) Κύκλωσε τις Δεκάδες και γράψε ποιος αριθμός σχηματίζεται, όπως το παράδειγμα:



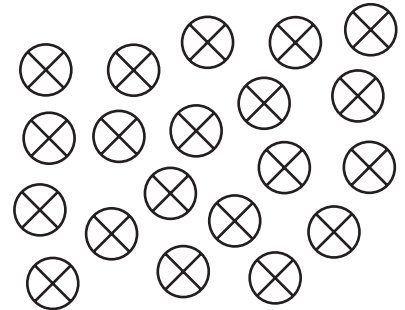
..... Δ Μ

Είναι το




..... Δ Μ

Είναι το




..... Δ Μ

Είναι το




..... Δ Μ

Είναι το



..... Δ Μ

Είναι το



..... Δ Μ

Είναι το

2) Σκέψου και απάντησε.

Το μισό του 8 είναι το γιατί

Το μισό του 10 είναι το γιατί

Το μισό του 4 είναι το γιατί

Το μισό του 6 είναι το γιατί

Το μισό του 2 είναι το γιατί

3) Πόσο κάνουν;

$4 + 3 =$

$8 + 2 =$

$4 + 2 =$

$6 + 4 =$

$6 + 3 =$

$7 + 2 =$

$5 + 2 =$

$4 + 5 =$

$6 + 2 =$

$7 + 3 =$

$2 + 3 =$

$5 + 3 =$



Όνομα: _____