



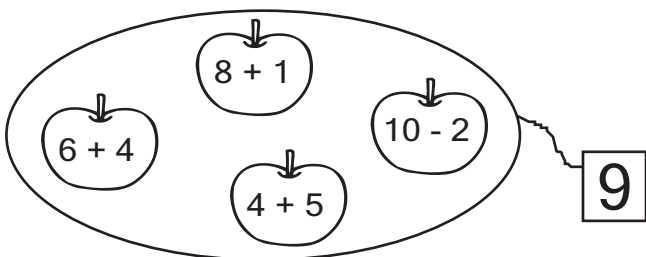
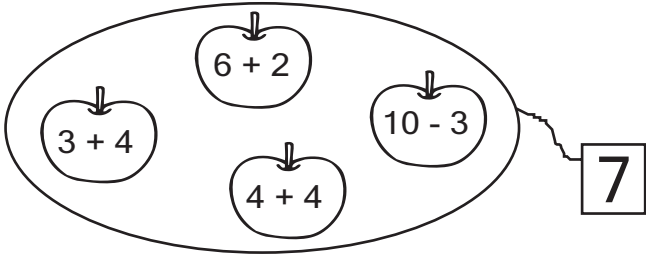
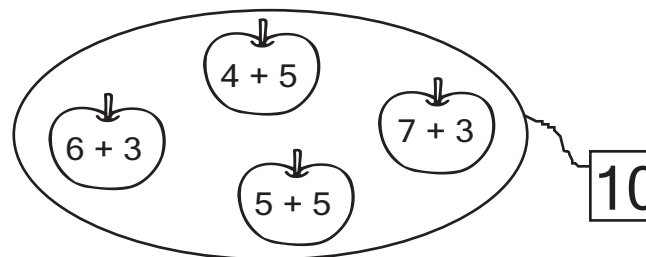
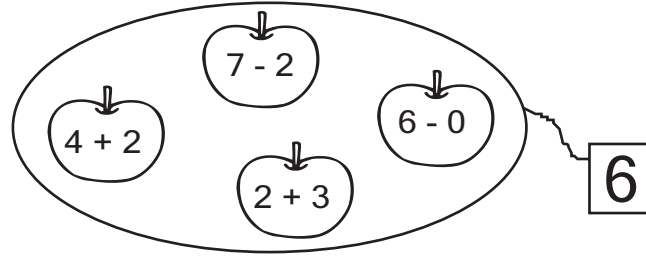


Μάθημα 32

1) Συμπληρώνω για να γίνουν σε κάθε σειρά οριζόντια και κάθετα όσα λέει ο αριθμός στο αστεράκι.

											
3	2		5	1		4	3		5	3	
	2	3	1		4		2	5	4		4
2				4	2	3		2		5	4

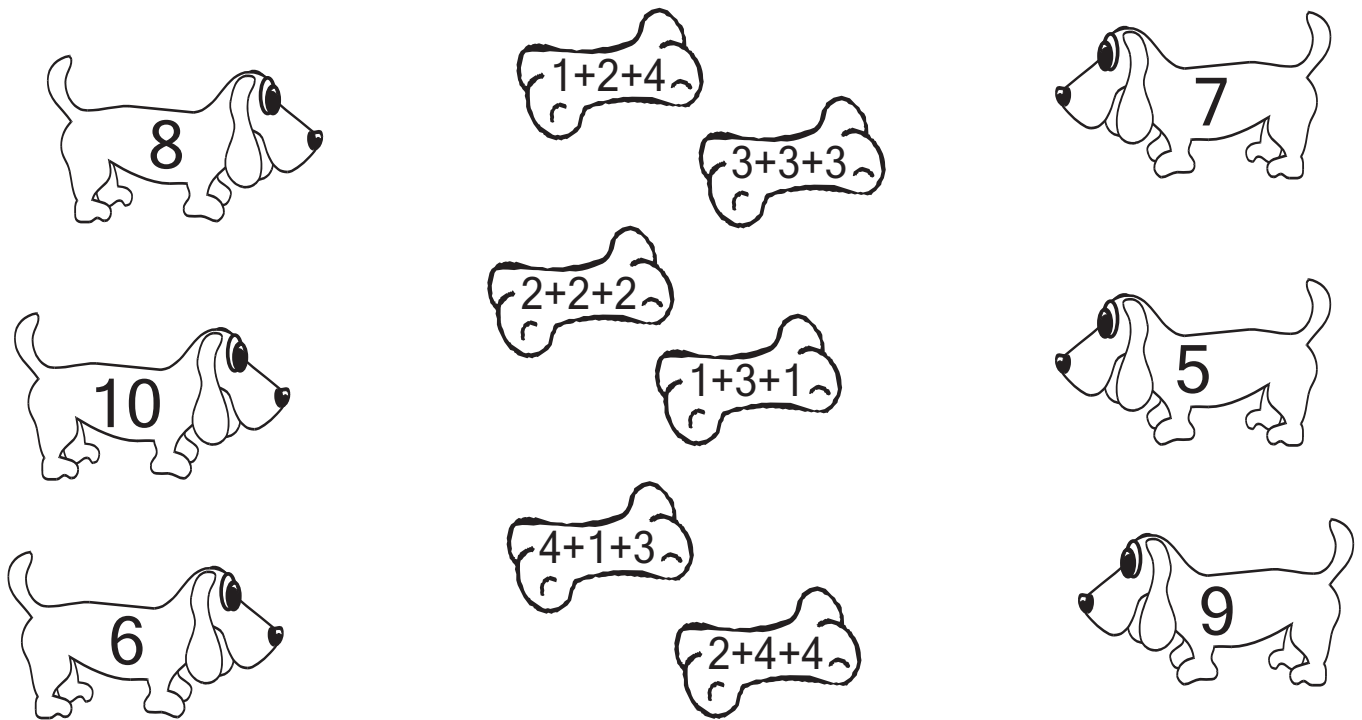
2) Από τα μήλα που είναι σε κάθε σκονί χρωμάτισε μόνο όσα κάνουν όσο λέει το ταμπελάκι.

	9		7
	10		6

3) Σκέψου και συμπλήρωσε τον αριθμό που πρέπει σε κάθε κουτάκι:

<input style="width: 40px; height: 30px;" type="text"/> + 3 → 8	8 - 1 → <input style="width: 40px; height: 30px;" type="text"/>	8 - <input style="width: 40px; height: 30px;" type="text"/> → 3
<input style="width: 40px; height: 30px;" type="text"/> + 2 → 8	8 - 6 → <input style="width: 40px; height: 30px;" type="text"/>	8 - <input style="width: 40px; height: 30px;" type="text"/> → 4
<input style="width: 40px; height: 30px;" type="text"/> + 4 → 8	8 - 5 → <input style="width: 40px; height: 30px;" type="text"/>	8 - <input style="width: 40px; height: 30px;" type="text"/> → 7

4) Δώσε σε κάθε σκυλάκι το σωστό κόκαλο.



5) Λύσε τα προβλήματα και απάντησε με μια ολόκληρη κουβεντούλα.


Γύρω από μια λιμνούλα κάθονται και λιάζονται 7 βατραχάκια.
Ξαφνικά πήδηξαν στο νερό τα 3 και έφυγαν.
Πόσα βατραχάκια έμειναν;



Λογαριάζω:

Απάντηση: _____

Στη διπλανή πολυκατοικία μένουν 5 παιδιά που είναι φίλοι μου. Τα 3 παιδιά είναι κορίτσια.
Πόσα είναι τα αγόρια;



Λογαριάζω:

Απάντηση: _____

Όνομα: _____