




Μάθημα 32

1) Λογαριάζω κάθε αριθμό της πρώτης στήλης με όλους τους αριθμούς της πρώτης σειράς και συμπληρώνω τους πίνακες.

	+ 3	+ 2	+ 4	+ 1
4	7			
6				

	+ 4	+ 5	+ 3	+ 2
2	6			
5				

	- 3	- 5	- 2	- 4
8	5			
6				
7				

	- 5	- 7	- 6	- 4
9	4			
10				
8				

2) Βρίσκω τον αριθμό που κρύβεται κάτω από το χεράκι.

$$2 + \text{5 hands} = 7$$

$$8 - \text{3 hands} = 5$$

$$4 + \text{5 hands} = 9$$

$$10 - \text{3 hands} = 7$$

$$3 + \text{3 hands} = 6$$

$$7 - \text{3 hands} = 4$$

$$1 + 2 + \text{3 hands} = 6$$

$$10 - 2 - \text{3 hands} = 7$$

$$3 + 2 + \text{2 hands} = 7$$

$$8 - 4 - \text{3 hands} = 1$$

$$4 + 2 + \text{4 hands} = 10$$

$$7 - 1 - \text{4 hands} = 2$$

Όνομα: _____