

4) Τι λείπει;

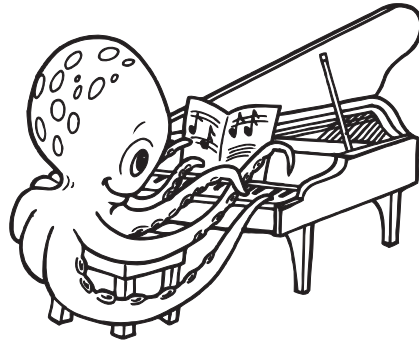
$3 + \square = 7$

$5 + \square = 8$

$7 + \square = 10$

$6 + \square = 9$

$4 + \square = 9$



$10 - \square = 6$

$8 - \square = 4$

$9 - \square = 5$

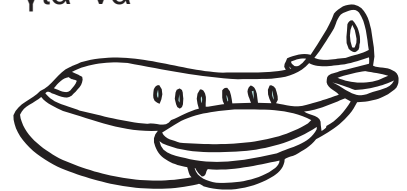
$7 - \square = 5$

$10 - \square = 5$

5) Λύσε τα προβλήματα και απάντησε με μια ολόκληρη κουβεντούλα.

Είχα στο ποστοφόλι μου 10 ευρώ αλλά έδωσα τα 4 για να αγοράσω ένα αεροπλανάκι.
Πόσα ευρώ μου έμειναν;


Λογαριάζω:



Απάντηση: _____

Η γιαγιά έχει στο χωριό ένα προβατάκι, ένα γαϊδουράκι και μια κότα.
Πόσα πόδια έχουν τα ζώα όλα μαζί;


Λογαριάζω:



Απάντηση: _____

Ήμουν μόνος στο σπίτι γι' αυτό φώναξα 2 φίλες και 2 φίλους μου να παίξουμε.
Πόσα παιδιά είμαστε τώρα όλα μαζί;

Λογαριάζω:



Απάντηση: _____

Όνομα: _____