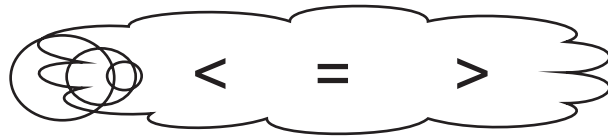


Μάθημα 33

1) Διάβασε και γράψε τους αριθμούς:

σαράντα εννιά	τριάντα έξι
τριάντα πέντε	δεκαεπτά
είκοσι τέσσερα	σαράντα ένα
δεκαοκτώ	είκοσι τρία
τριάντα	σαράντα δύο

2) Σύγκρινε τους αριθμούς βάζοντας ανάμεσά τους το σωστό σημαδάκι:



46 38

32 23

50 17

29 26

37 37

32 39

40 50

14 41

3) Σκέψου και συμπλήρωσε τον πίνακα, όπως το παράδειγμα:

2 Δ	7 Μ	10+10+7	20 + 7	27
1 Δ	9 Μ			
4 Δ	3 Μ			
5 Δ	0 Μ			
3 Δ	8 Μ			
4 Δ	0 Μ			

4) Πόσο κάνουν;

$40 + 6 =$

$20 + 7 =$

$10 + 9 =$

$30 + 8 =$

$40 + 1 =$

$30 + 5 =$

$20 + 10 =$

$20 + 20 =$


$30 + 10 =$

$40 + 10 =$

$30 + 20 =$

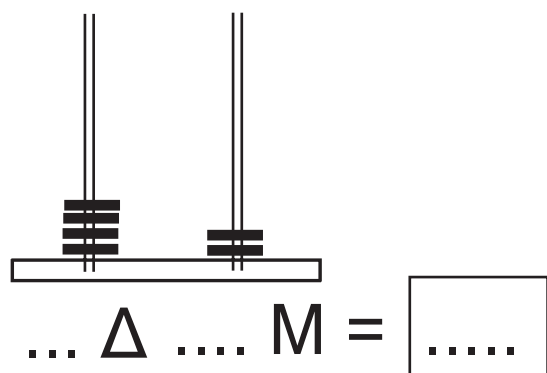
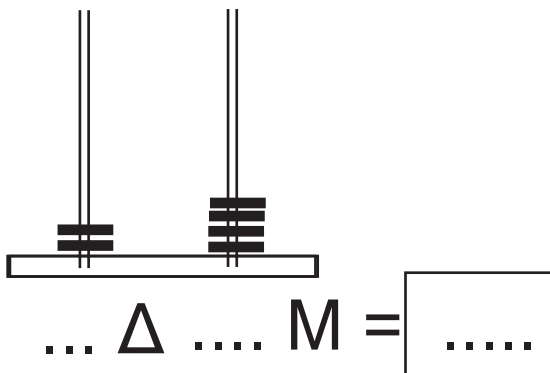
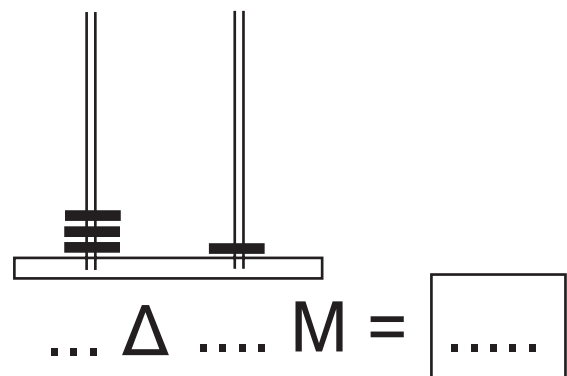
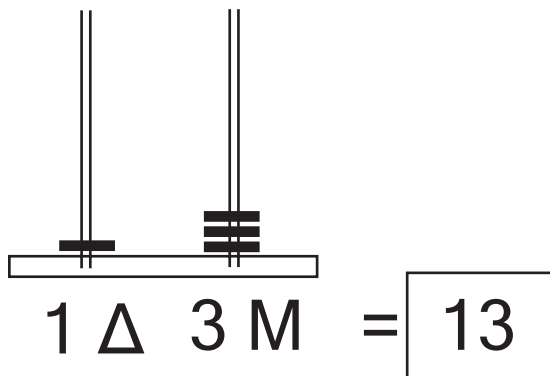
ΕΙΝΑΙ ΠΟΛΥ ΕΥΚΟΛΟ!

Διάβασε τα ζευγαράκια δυνατά
και θα σου το πουν μόνα τους!



5) Ποιος αριθμός είναι;

Σκέψου όπως το παράδειγμα για να τον ανακαλύψεις.



Όνομα: _____