

Μάθημα 34

1) Συμπλήρωσε τον αριθμό που είναι πριν και μετά.

	50	
--	----	--

	25	
--	----	--

	30	
--	----	--

	27	
--	----	--

	39	
--	----	--

	20	
--	----	--

	42	
--	----	--

	40	
--	----	--

2) Συνέχισε τη σειρά των αριθμών.

36, _____, _____, _____, _____, _____, _____, _____, 44

18, _____, _____, _____, _____, 23

47, _____, _____, _____, _____, _____, _____, 54

28, _____, _____, _____, _____, _____, 34

3) Σκέψου και συμπλήρωσε, όπως το παράδειγμα:

Το 28 είναι $10 + 10 + 8$ Δηλαδή έχει 2 Δ και 8 Μ

Το 42 είναι Δηλαδή έχει και

Το 50 είναι Δηλαδή έχει και

Το 34 είναι Δηλαδή έχει και

Το 22 είναι Δηλαδή έχει και


4) Λύσε το πρόβλημα και απάντησε με μια σωστή κουβεντούλα.

Ο παππούς έχει φυτέψει στο περιβόλι 10 αχλαδιές,
10 συκιές, 10 λεμονιές, 10 ροδακινιές και 6 μηλιές.
Πόσα δέντρα είναι όλα μαζί;

Λογαριάζω:


--


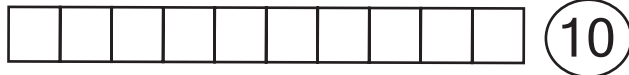
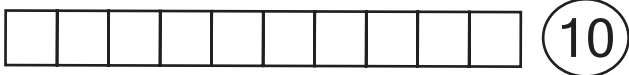
Απαντώ: _____



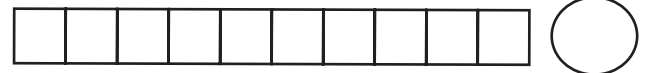
5) Παρατήρησε και βρες πόσα είναι τα κουτάκια, όπως εγώ:

ΘΥΜΗΣΟΥ! Δεν χρειάζεται να τα μετράς όλα!

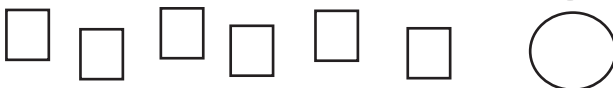
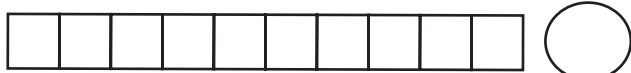
 = 10 κουτάκια



Είναι $10 + 10 + 5 = 25$



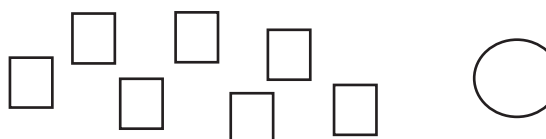

Είναι



Είναι



Είναι



Είναι

Όνομα: _____