

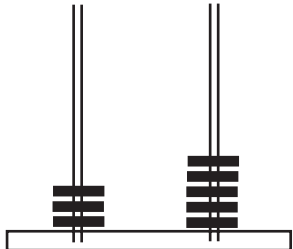
# Μάθημα 38

1) Συμπλήρωσε όπως το παράδειγμα:

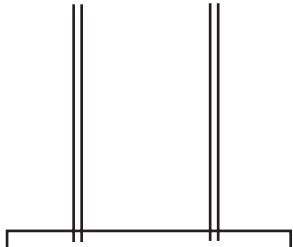
2 Δ 7 Μ	27	είκοσι επτά
1 Δ 9 Μ		
4 Δ 2 Μ		
50 Δ 0 Μ		
2 Δ 1 Μ		
3 Δ 4 Μ		

2) Ανάλυσε τους αριθμούς και σχημάτισέ τους στους άβακες, όπως το παράδειγμα:

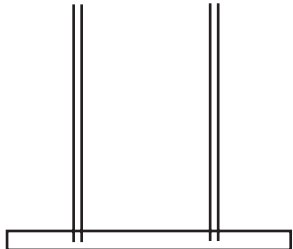
35 → 30 + 5 → 10 + 10 + 10 + 5



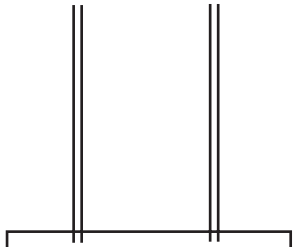
21 → ..... → .....



42 → ..... → .....



14 → ..... → .....



Όνομα: \_\_\_\_\_