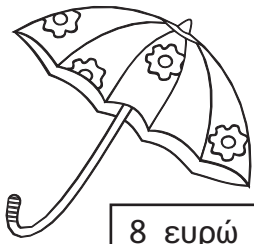



Μάθημα 39


1) Ένωσε κάθε πράγμα με το πορτοφόλι που περιέχει τα χρήματα που χρειάζεσαι για να το αγοράσεις.




8 ευρώ



32 ευρώ



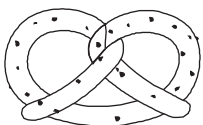
45 λεπτά




14 ευρώ



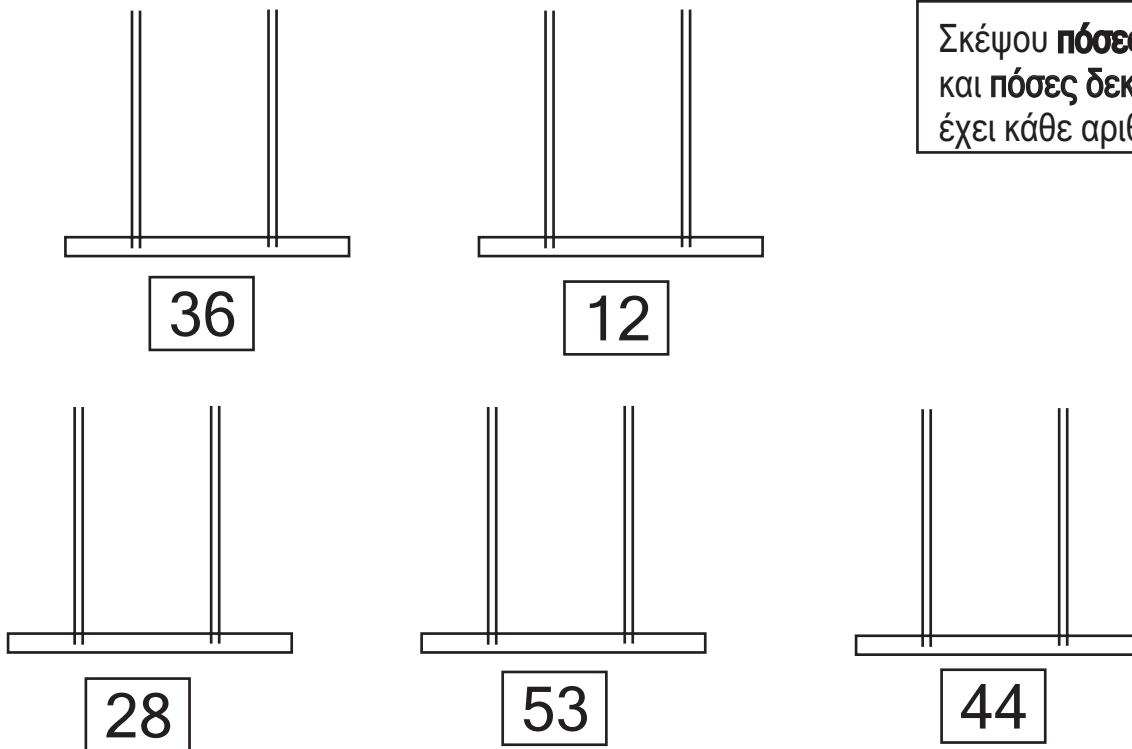
36 ευρώ



22 λεπτά



2) Σχημάτισε στους άβακες τους αριθμούς που είναι στα κουτάκια.



Σκέψου **πόσες μονάδες (Μ)**
και **πόσες δεκάδες (Δ)**
έχει κάθε αριθμός!



3) Συμπλήρωσε τον αριθμό που λείπει σε κάθε ζευγαράκι.

$$26 - 6 = \dots\dots$$

$$18 - 8 = \dots\dots$$

$$32 - 2 = \dots\dots$$

$$19 - 9 = \dots\dots$$

$$45 - 5 = \dots\dots$$

$$57 - 7 = \dots\dots$$

$$34 - \dots\dots = 30$$

$$21 - \dots\dots = 20$$

$$47 - \dots\dots = 40$$

$$16 - \dots\dots = 10$$

$$23 - \dots\dots = 20$$

$$56 - \dots\dots = 50$$

4) Λογάριασε πόσο κάνουν:

$$10 + 10 + 5 + 5 = \dots\dots$$

$$20 + 20 + 10 + 5 = \dots\dots$$

$$30 + 10 + 5 + 5 = \dots\dots$$

ΠΑΝΕΥΚΟΛΟ!!!
Ανέβαινε 10 - 10
ή 5 - 5!



Όνομα: _____