



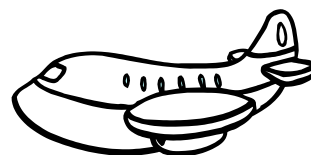
Μάθημα 43

Επαναληπτικές Εργασίες


1) Ο αέρας φύσηξε και οι σελίδες από το ημερολόγιο σκίστηκαν και ανακατεύτηκαν. Μπορείς να βάλεις αριθμούς κάτω από κάθε σελίδα για να δείξεις με ποια σειρά πρέπει να τις βάλει τώρα η Έλλη;



2) Σχεδίασε σε κάθε κουτί όποιο σχήμα γράφει από κάτω και μετά χρωμάτισέ το όπως σου αρέσει.



Τετράγωνο



Κύκλος

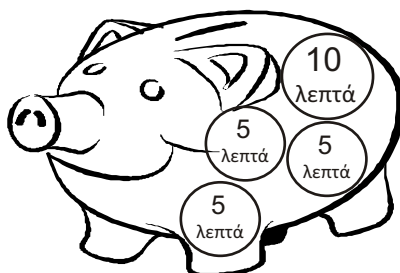
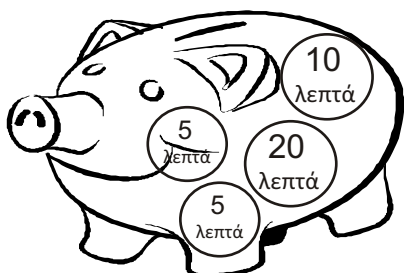


Ορθογώνιο



Τρίγωνο

3) Λογάριασε και γράψε δίπλα σε κάθε κουμπάρα πόσα χρήματα έχει μέσα.




4) Λύσε τα προβλήματα:

✦ Η κυρία Κατερίνα έκοψε από τη μηλιά που έχει στον κήπο της 9 μήλα και από την αχλαδιά 7 αχλάδια. Πόσα φρούτα έκοψε όλα μαζί;




Λογάριασε: _____

Απάντησε: _____



✦ Αν τα δυο αδέρφια βάλουν τα χρήματά τους όλα μαζί, μπορούν να αγοράσουν το πατίνι;



Λογάριασε: _____

Απάντησε: _____

✦ Πόσα χρήματα χρειάζονται ακόμα;

Λογάριασε: _____

Απάντησε: _____

Για να λογαριάσεις πιο εύκολα, μπορείς να σχηματίσεις πρώτα τη ΔΕΚΑΔΑ!

