



Μάθημα 38

1) Παρατηρώ και συμπληρώνω τις Δεκάδες και τις Μονάδες. Μετά λογαριάζω και βρίσκω ποιος αριθμός είναι, όπως το παράδειγμα.

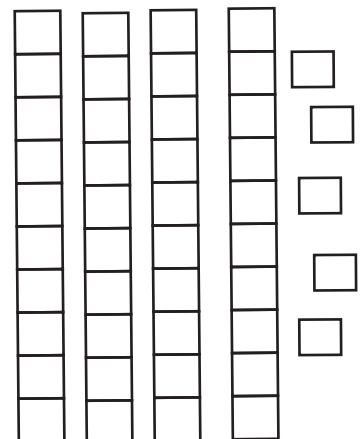


.....ΔΜ

$10+10+10+10+6=46$



.....ΔΜ



.....ΔΜ

2) Γράφω μπροστά από κάθε αριθμό το όνομά του και μετά εξηγώ πώς τον φτιάξαμε, όπως το παράδειγμα.


.....τριάντα οκτώ..... $38 = 30 + 8$

.....42 =
.....

.....29 =
.....

.....34 =
.....

3) Παρατήρησε τα χρήματα και βρες πόσο πλήρωσε η Ελένη για τα πράγματα που αγόρασε.



.....	+	+	+	=	€
-------	---	-------	---	-------	---	-------	---	-------	---

Όνομα: _____