

Μάθημα 41




1) Βάλε αριθμούς για να δείξεις τη σωστή σειρά των ημερών μέσα στην εβδομάδα.

Πέμπτη Τρίτη Παρασκευή

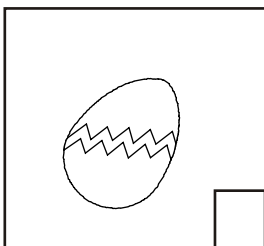



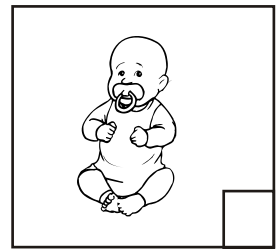

Κυριακή 1 Δευτέρα

Σάββατο Τετάρτη

2) Ποια εποχή αντιπροσωπεύει κάθε εικόνα;



3) Βάλε αριθμούς για να δείξεις τη σωστή σειρά με την οποία έγιναν όσα δείχνουν οι εικόνες και να μπορέσεις στη συνέχεια να διηγηθείς την ιστορία.



4) Προσπάθησε να συμπληρώσεις και τους υπόλοιπους μήνες κάθε εποχής.


ΑΝΟΙΞΗ
Μάρτιος
Α
Μ

ΚΑΛΟΚΑΙΡΙ
Ιούνιος
Ι
Α

ΦΘΙΝΟΠΩΡΟ
Σεπτέμβριος
Ο
Ν

ΧΕΙΜΩΝΑΣ
Δεκέμβριος
Ι
Φ

5) Σκέψου και απάντησε στις ερωτήσεις:



Αν χθες είχαμε 12 Φεβρουαρίου.....

.....πόσο θα έχουμε μετά από δυο ημέρες; _____

.....πόσο είχαμε πριν από δυο ημέρες; _____



.....πόσο είχαμε χθες; _____

6) Διάλεξε την κατάλληλη λέξη και συμπλήρωσε τις προτάσεις.

Για να μετρήσουμε την ώρα που περνά,
χρησιμοποιούμε _____

Το ρολόι έχει δυο _____

Ο μεγάλος δείκτης του ρολογιού,
μας δείχνει _____

Ο μικρός δείκτης του ρολογιού,
μας δείχνει _____



Όνομα: _____