

Μάθημα 47

1) Λογάριασε την πρόσθεση ανεβαίνοντας και μετά κάνε την ανάποδη πράξη κατεβαίνοντας, όπως το παράδειγμα:

$$17 + 4 = 21 \quad \Rightarrow \quad 21 - 4 = 17$$

$$28 + 6 = \dots\dots\dots \Rightarrow \dots\dots\dots = \dots\dots\dots$$

$$19 + 7 = \dots\dots\dots \Rightarrow \dots\dots\dots = \dots\dots\dots$$


$$18 + 5 = \dots\dots\dots \Rightarrow \dots\dots\dots = \dots\dots\dots$$

$$39 + 8 = \dots\dots\dots \Rightarrow \dots\dots\dots = \dots\dots\dots$$

$$27 + 6 = \dots\dots\dots \Rightarrow \dots\dots\dots = \dots\dots\dots$$

$$16 + 5 = \dots\dots\dots \Rightarrow \dots\dots\dots = \dots\dots\dots$$

Για να βρεις την ανάποδη πράξη, διάβασε τα ζευγαράκια από το τέλος προς την αρχή!




2) Λύσε τα προβλήματα:

(Μπορείς να σπάσεις το δεύτερο αριθμό, για να λογαριάσεις πιο εύκολα.)

- Σε μια λιμνούλα του πάρκου ζουν 9 χρυσόψαρα και 6 χελωνίτσες. Πόσα είναι τα ζώα που ζουν στη λιμνούλα, όλα μαζί;


Λογαριάζω: _____



Απαντώ: _____

- Η μητέρα αγόρασε 12 αυγά αλλά έβαλε τα 8 σε ένα γλυκό. Πόσα αυγά της έμειναν;

Λογαριάζω: _____



Απαντώ: _____

Όνομα: _____