






Μάθημα 50

Λύνουμε προβλήματα

Παρατήρησε τον πίνακα, **λογάρισε** και βρες πόσα ρέστα θα πάρεις, όπως το παράδειγμα.

Έχω....	 12 ευρώ	 8 ευρώ	 15 ευρώ	 4 ευρώ	 2 ευρώ	Πήρα ρέστα....
20 ευρώ	X			X		20 - 12 - 4 =
20 ευρώ		X			X	
20 ευρώ	X	X				
20 ευρώ			X	X		
20 ευρώ			X		X	
20 ευρώ		X		X	X	
20 ευρώ	X			X	X	

Όνομα: _____