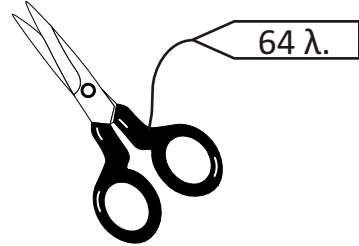
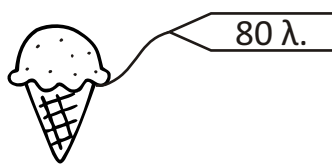
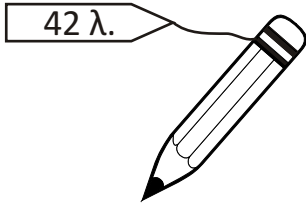

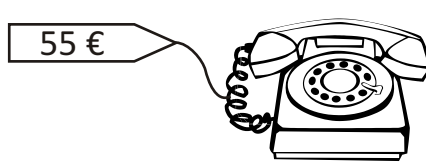


Μάθημα 55

1) Ζωγράφισε τα χρήματα που θα δώσεις για να αγοράσεις τα παρακάτω:



2) Προβλήματα

Η Κική είχε στον κουμπαρά της 40 €. Ο παππούς της, της έδωσε την Πρωτοχρονιά 20 € και η γιαγιά άλλα 20 €. Πόσα χρήματα έχει τώρα;

Λογάριασε: _____

Απάντησε: _____



Ο Οδυσσέας είχε 68 € και έδωσε 30 € για να αγοράσει ένα δώρο στη μαμά του που γιορτάζει. Πόσα χρήματα του έμειναν;

Λογάριασε: _____

Απάντησε: _____



Ο Μάρκος έχει 30 € και η αδερφή του η Άννα έχει άλλα 20 €. Πόσα € χρειάζονται ακόμα για να έχουν 100 €;

Λογάριασε: _____

Απάντησε: _____



Όνομα: _____